

Les espaces français

Depuis la révolution française de 1789, la France est divisée en départements. De nos jours, il y a en 101 : 96 en métropole, 5 outre-mer.

Ils ont tous un numéro qui correspond à un classement alphabétique.

Certains départements ont pris le nom du fleuve qui le traverse ou de la chaîne de montagnes qui le domine.

Les départements sont tous à peu près de la même taille, mais leur population peut-être très différente de l'un à l'autre :

Certains départements urbains*, comme le Rhône, sont très peuplés. D'autres, ruraux* comme la Lozère, ont moins de 100 000 habitants.



Lis les textes ou observe le tableau et réponds aux questions.

❶ Depuis quand les départements existent-ils ?

❷ Pourquoi, les départements ruraux ont une population moins importante que les départements urbains ?

Département		Superficie	Population
01	Ain	5 762	656 955
06	Alpes-Maritimes	4 299	1 079 396
13	Bouches-du-Rhône	5 087	2 034 469
20A	Corse-du-Sud	4 014	162 421
33	Gironde	10 725	1 633 440
48	Lozère	5 167	76 286
59	Nord	5 743	2 588 988
75	Paris	105	2 148 271
83	Guadeloupe	1 628	376. 879

Relevés de l'année 2020

❸ Quel est le département le plus grand ?

❹ Quel est le plus peuplé par rapport à sa superficie ?

Dans chaque département, les habitants élisent des conseillers départementaux qui choisissent ensuite leur président.

Le conseil départemental s'occupe des transports publics (bus, cars, métro, tramway...), des collèges, des services sociaux du département.

De son côté, le gouvernement nomme un préfet qui le représentant de l'Etat dans le département : il y dirige les services de l'Etat et il est chargé du maintien de l'ordre.

❺ De quoi s'occupe le conseil général ?

❻ Comment s'appelle le représentant de l'Etat dans le département ?

Les espaces français

Leçon

■ Depuis la _____ française, la France est découpée en _____ départements : 96 en métropole et 5 outre-mer. Les départements ont des _____ à peu près identiques, mais leur _____ peut être très différente d'un département à l'autre.

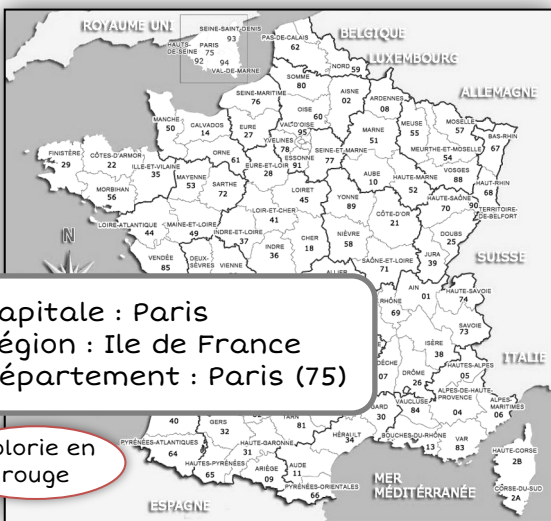
Les citoyens élisent tous les _____ ans des conseillers _____. Le conseil _____ s'occupe des _____ publics (bus, cars, métro, tramway...), des collèges, des services sociaux du département.

■ En France, il y _____ régions qui regroupent plusieurs _____. Les citoyens de chaque région élisent des conseillers _____.

Le conseil _____ s'occupe des lycées, de la formation professionnelle, des entreprises, des transports...

Ce que je dois savoir

- 1) Le nom de mon département et son numéro et les placer sur la carte de France.
- 2) Le nom de ma région et les départements qui la composent et la placer sur la carte de France.
- 3) Connaître les noms des différentes régions de France et les placer sur la carte.



Capitale : Paris
Région : Ile de France
Département : Paris (75)

Colorie en rouge

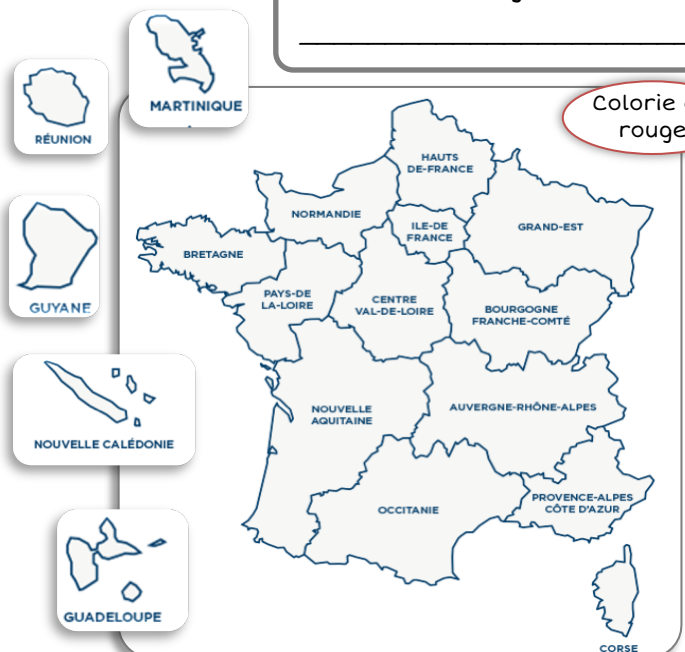
Mon département : _____

Colorie en rouge



Ma région : _____

Colorie en rouge



Correction

1 Lis les textes ou observe le tableau et réponds

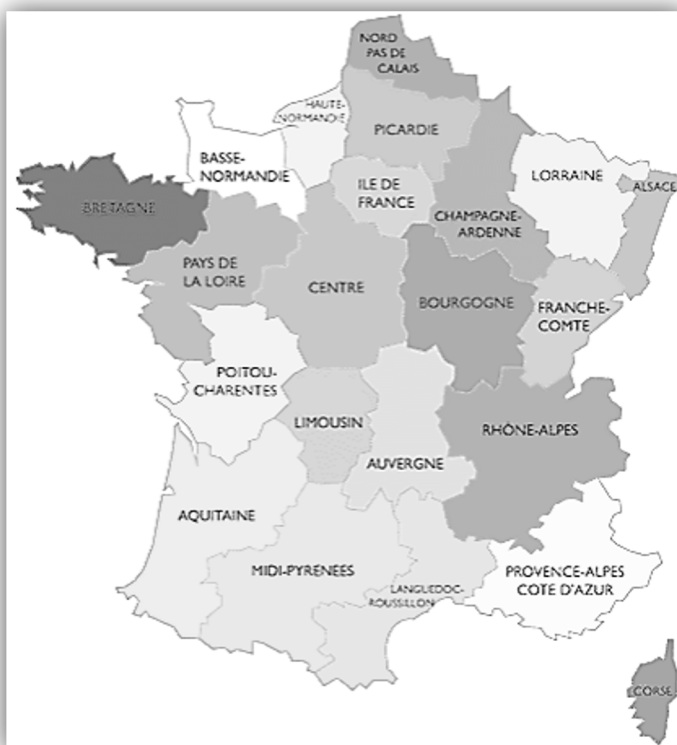
- 1 Depuis quand les départements existent-ils ? **Depuis la révolution française.**
- 2 Pourquoi, les départements ruraux ont une population moins importante que les départements urbains ? **Parce que dans les grandes villes il y a plus de monde que dans les villages.**
- 3 Quel est le département le plus grand ? **La Gironde**
- 4 Quel est le plus peuplé par rapport à sa superficie ? **Paris (sa superficie est toute petite et il y a beaucoup d'habitants)**
- 5 De quoi s'occupe le conseil général ? **Des transports publics, des collèges, des services sociaux.**
- 6 Comment s'appelle le représentant de l'Etat dans le département ? **Le préfet**

2 Observe la carte des départements ci-dessus et réponds

- 1 Comment s'appelle le département où tu habites ? Quel est son numéro ?
Les Alpes-Maritimes - 06
- 2 Colorie-le en bleu.
- 3 Colorie en rouge le département 75.
Comment s'appelle-t-il ? **Paris/Seine**
- 4 Cite le département et son numéro :
 - le plus à l'ouest : **Le Finistère**
 - le plus au sud : **Les Pyrénées Orientales**
 - le plus au nord : **Le Nord**
- 5 En t'aidant du tableau page 1, colorie en jaune le département le moins peuplé.
(c'est la Lozère un peu au sud)

3 Observe la carte

- 1 Nom de ta région :
Provence Alpes Côte d'Azur (PACA)
Superficie : **31 400 km²**
Nb d'habitants : **4 506 151**
- 2 Colorie-la en jaune
- 3 Trace en rouge les limites de ta région
- 4 Nombre de départements dans ta région : **6**
Cite-les : **Alpes-Maritimes, Alpes de Hautes Provence, Hautes-Alpes, Var, Vaucluse, Bouches-du-Rhône.**
- 5 Colorie la région où se trouve Paris
- 6 Comment s'appelle-t-elle ? **Île de France**



Je retiens

■ Depuis la **Révolution** française, la France est découpée en **101** départements : 96 en métropole et 5 outre-mer. Les départements ont des **superficies** à peu près identiques, mais leur **population** peut être très différente d'un département à l'autre.

Les citoyens élisent tous les **6** ans des conseillers **généraux**. Le conseil **général** s'occupe des transports publics (bus, cars, métro, tramway...), des collèges, des services sociaux du département.

■ En France, il y a **22** régions qui regroupent plusieurs **départements**. Les citoyens de chaque région élisent des conseillers **régionaux**. Le conseil régional s'occupe des lycées, de la formation professionnelle, des entreprises, des transports...



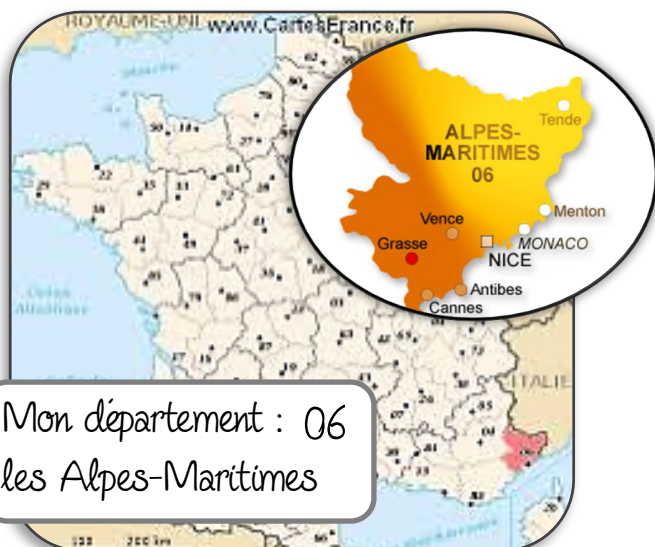
Capitale : Paris

Région : Ile de France

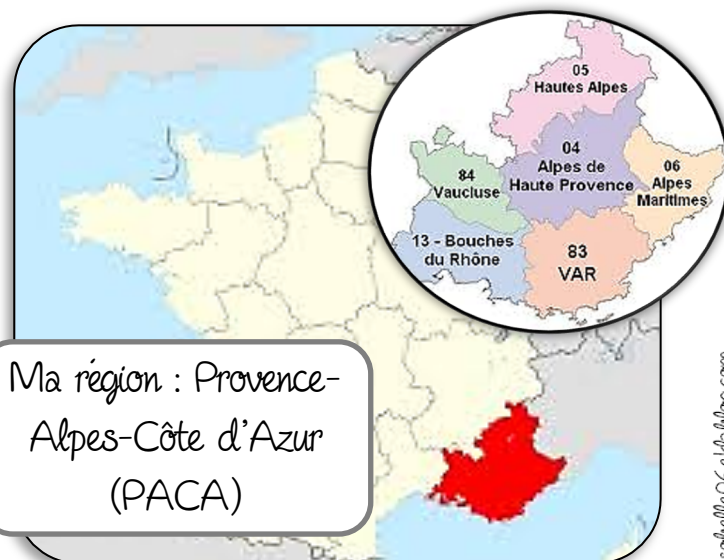
Département : Paris/Seine 75

Ce que je dois savoir

- 1) Le nom de mon département, son numéro et le nom de ma région et les placer sur une carte
- 2) Connaître le nom, le numéro du département et de la région de la capitale et les placer sur une carte



Mon département : 06
les Alpes-Maritimes



Ma région : Provence-
Alpes-Côte d'Azur
(PACA)